



# Duelighedsbevis

[www.hansebert.dk/duelighedskursus](http://www.hansebert.dk/duelighedskursus)

## Minimodul 5

Dato: Onsdag d. 2. februar 2022.

Sted: Selvstudium hjemme hos jer selv.

Emner: Kursrettelser, bøjer.

Læsning: Udover at jeg vil opfordre jer til at genlæse alt det tidligere læsestof i Duelighedsbogen og Søvejsreglerne, skal I læse i IALA-bogen (Afmærkning af danske farvande). Dette stof er velegnet til selvstudium, og vi tager det op igen, når vi mødes.

Læs side 4, 5, 8, 9, 10, 11, 12, 13, 14, 19 og 20.

De søvejsregler, vi har haft fat i, er: R20, R21, R23, R24, R25, R26, R27f, R29, R30, R35, R37.

Hjemmeopgaver: Se om I kan få hentet øveprogrammerne for bøjer og for lanterner hjem fra kursushjemmesiden.

Øv bøjer og lanterner

Regn de 4 milepælsopgaver

Regn opgaverne 18 - 30 (MM4 og MM5)

Kage: Jeg vil foreslå Drømmekage fra Brovst.



## Opgaver:

### Opgave 28

Du ligger i din sejlbåd „Håbet“ i havnen på Anholt. „Håbet“ er 11 m lang.

Dagens sejlads går sydpå mod Langør på Samsø, og du anvender kort 102U som oversejlingskort.

I afsejler fra Anholt havn d. 28/5 2021 kl. 07.30, og loggen står på 63,7 sm inden afgang.

Efter at være kommet ud af havnen, styres der  $211^\circ$  efter kompasset. Efter at sejlene er sat, er der en sejlet fart på 5,0 knob.

Kl. 14.09 er du ganske nær ved sømærket ved Havknude Flak (omkring SSØ for Grenå havn).

- Hvad har din beholdne kurs været indtil nu?
- Hvad har din beholdne fart været?
- Hvad er forventet logvisning kl. 14.09?
- Hvad er det for en bøje, vi er ved?
- Loggen viser imidlertid 93,4 sm. Så hvad har din sejlede fart faktisk været?
- Har der været medstrøm eller modstrøm under turen?


### Opgave 29

Hvilke ankerlanterner skal nedenstående skibe føre?

- Maskindrevet skib over 50 m.
- Sejlbåd under 12 m.
- Fiskeskib.
- Trawler.
- Lodsbåd.
- Minerydder.

### Opgave 30

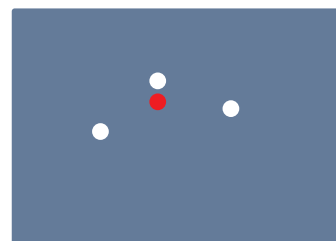
Hvilke skibe har vi i nedenstående lanternefigurer a - i? Angiv også dagssignalerne og tagesignalerne (blåt blinklys anvendes under politiaktioner).




a




b




c




d



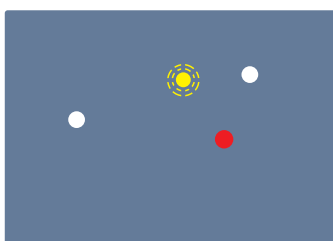
e




f



g



h



i